

2. РАВНОПЕРЕМЕННОЕ ПРЯМОЛИНЕЙНОЕ ДВИЖЕНИЕ

2.1. Охарактеризуйте движение тел, графики скоростей которых представлены на рис. 2.1.

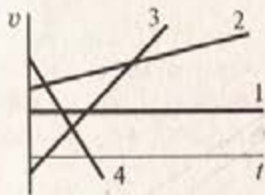


Рис. 2.1

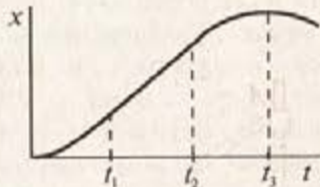


Рис. 2.2

Решение. 1) Равномерное; 2), 3) равноускоренное; 4) равнозамедленное.

2.2. По графику зависимости координаты тела от времени (рис. 2.2) построить графики зависимости ускорения, скорости и пути, пройденного телом, от времени.

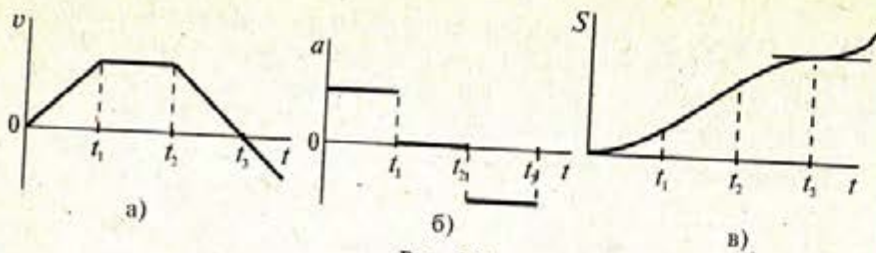


Рис. 2.3

Решение приведено на рис. 2.3в. В момент времени t_3 — точка перегиба.

2.3. График зависимости скорости тела от времени дан на рис. 2.4. Начальная координата $x_0 = 0$. Постройте графики зависимости ускорения, координаты и пути, пройденного телом, от времени.

Решение. На рис. 2.5б в интервале $0-t_3$ — три отрезка парабол. В точке t_3 для $S(t)$ — точка перегиба; зависимость $a(t)$ — рис. 2.5а.

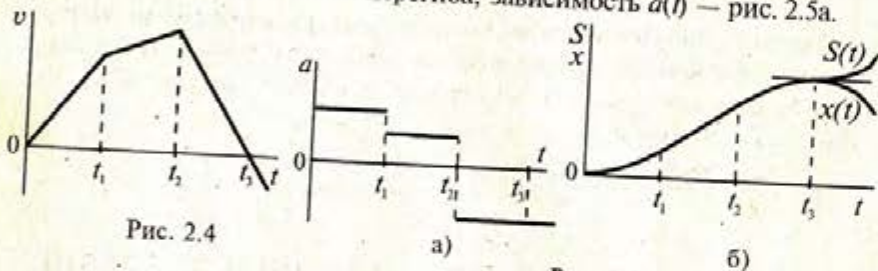


Рис. 2.4

Рис. 2.5

2.4. На рис. 2.6а дан график зависимости скорости материальной точки от времени. Постройте графики зависимости ускорения, перемещения и пройденного пути этой материальной точки от времени.

Решение. Графики приведены на рис. 2.6 (б, в). От $t=0$ до t_4 зависимость координаты и перемещения от времени совпадают, в интервале от $t=0$ до t_2 — два отрезка парабол, t_2-t_3 — отрезок прямой, от t_3 и дальше — отрезки парабол. Кривая $S(t)$ в моменты t_4 и t_6 имеет точки перегиба.

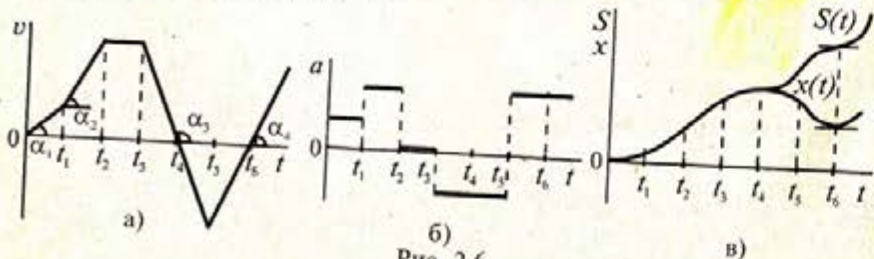


Рис. 2.6

2.5. Графики скоростей точки представлены на рис. 2.7. Постройте графики перемещения, путей и ускорений точки, если в начальный момент времени она находится в начале координат.

Решение самостоятельное.

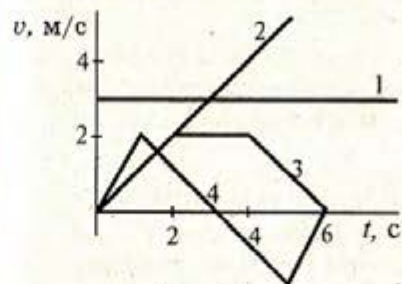


Рис. 2.7

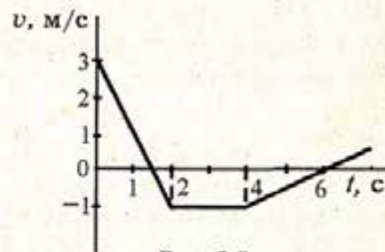


Рис. 2.8

2.6. Дан график зависимости скорости тела от времени (рис. 2.8). Постройте графики зависимости пути и координаты от времени. Определите среднюю скорость за первые 2,0 и 5,0 с. Начальная координата $x_0 = 0$.

Ответ: $v_2 = 1 \text{ м/с}$; $v_5 = -0,15 \text{ м/с}$.

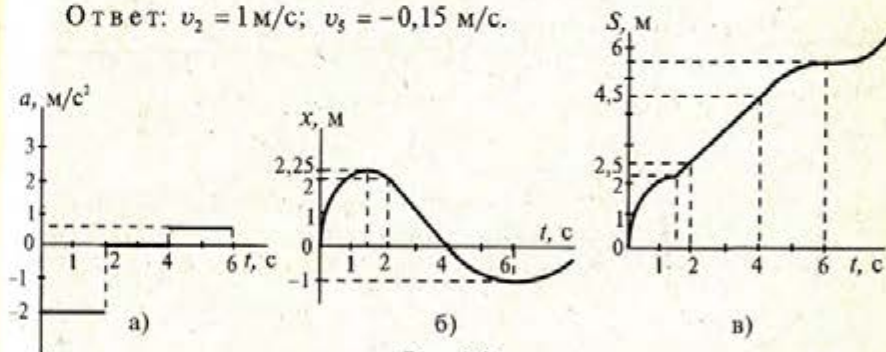


Рис. 2.9

Решение. Рис. 2.9а:

$$a_1 = \frac{v_1 - v_0}{\Delta t_1} = \frac{-1 - 3}{2} = -2,0 \text{ м/с}^2; \quad 0 < t < 2 \text{ с};$$

$$a_2 = 0; \quad 2 \text{ с} < t < 4 \text{ с};$$

$$a_3 = \frac{0 - (-1)}{2} = 0,5 \text{ м/с}^2; \quad 4 \text{ с} < t < 6 \text{ с};$$

Рис. 2.9б: $x(t)$ — парабола; $0 < t < 1,5 \text{ с}$; $x(t) = v_0 t + \frac{at^2}{2}$;

$$x(1,5 \text{ с}) = 3 \cdot 1,5 - \frac{2 \cdot 1,5^2}{2} = 2,25 \text{ м};$$

при $t = 1,5\text{ с}$ — вершина параболы, $v(1,5\text{ с}) = 0$;
 $1,5\text{ с} < t < 2\text{ с}$ — участок параболы; $x(2\text{ с}) = 2\text{ м}$;
 $2\text{ с} < t < 4\text{ с}$ — отрезок прямой (равномерное движение);
 $t = 4\text{ с}$, $x(4\text{ с}) = 0$;
 $4\text{ с} < t < 6\text{ с}$ — часть параболы, $x(6\text{ с}) = -1\text{ м}$ — вершина параболы.

Рис. 2.9в: Точки $t = 1,5\text{ с}$ и $t = 6\text{ с}$ — точки перегиба кривой $S(t)$. Средняя скорость находится как алгебраическая сумма площадей под кривой скорости, деленная на интервал времени.

$$\text{За } 2\text{ с: } v_2 = \left(\frac{3 \cdot 1,5}{2} - \frac{(2 - 1,5) \cdot 1}{2} \right) \text{ м} \cdot \frac{1}{2\text{ с}} = 1\text{ м/с};$$

$$\text{За } 5\text{ с: } v_5 = \left(\frac{3 \cdot 1,5}{2} - \frac{0,5 \cdot 1}{2} - 2 \cdot 1 - \frac{(1 + 0,5) \cdot 1}{2} \right) \text{ м} \cdot \frac{1}{5\text{ с}} = -0,15\text{ м/с}.$$

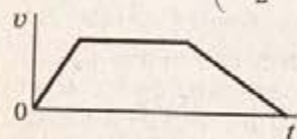


Рис. 2.10

2.7. По заданному графику скорости (рис. 2.10) постройте графики ускорения и пути.

Решение самостоятельное.

2.8. По графику перемещения, изображенному на рис. 2.11а, постройте графики скорости, ускорения и пути (два участка парабол).

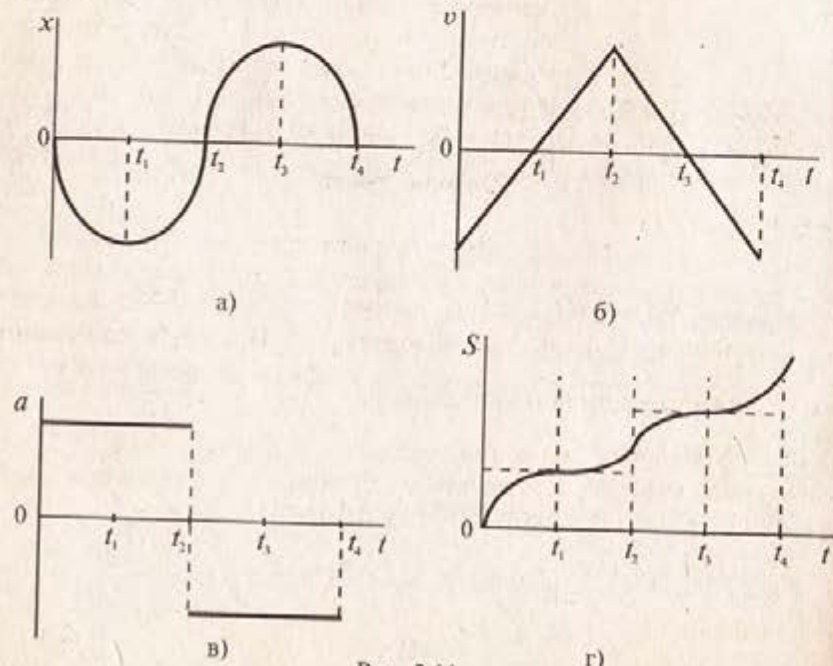


Рис. 2.11

Решение. Графики приведены на рис. 2.11б, 2.11в, 2.11г. Движение равнозамедленное, если знаки у скорости и ускорения разные; если они одинаковые, то движение равноускоренное.

2.9. По графику ускорения, приведенному на рис. 2.12а, постройте графики скорости, перемещения и пути при начальных условиях: $v_0 = 0$; $x_0 = 0$. Как изменятся эти графики, если начальные условия станут следующими:

- 1) $x(0) = x_0$; $v_0 = 0$; 2) $x_0 = 0$; $v(0) = v_0$; 3) $x_0 = 0$; $v(0) = -v_0$?

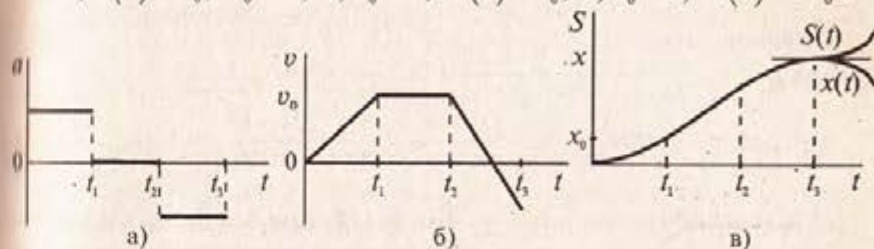


Рис. 2.12

Решение. Графики $v(t)$, $x(t)$ и $S(t)$ показаны на рис. 2.12б, 2.12в. Пункты 1), 2), 3) выполните самостоятельно.

2.10. Тело движется по прямой с ускорением $a = 0,5\text{ м/с}^2$. Начальная скорость тела $v_0 = -5,0\text{ м/с}$, начальная координата $x_0 = 2,0\text{ м}$.

Запишите уравнение движения тела, зависимость скорости от времени. Определите время движения тела до остановки и путь, пройденный телом до остановки.

Ответ: $t = 10\text{ с}$; $S = 25\text{ м}$.

Решение. Уравнение движения

$$x(t) = x_0 + v_0 t + \frac{at^2}{2};$$

$$x(t) = 2 - 5t + 0,25t^2; \quad v(t) = v_0 + at; \quad v(t) = -5 + 0,5t;$$

Остановка $v(t_1) = 0$; $-5 + 0,5t_1 = 0$; $t_1 = 10\text{ с}$. Путь до остановки — заштрихованная площадь на рис. 2.13: $S = \frac{5 \cdot 10}{2} = 25\text{ м}$.

2.11. Уравнение движения тела вдоль оси x : $x = 2 + 3t - t^2$, где x измеряется в метрах, t — в секундах. В момент $t = 3\text{ с}$ найдите: а) положение тела, б) его скорость и в) ускорение.

Ответ: $x = 2\text{ м}$; $v = -3\text{ м/с}$; $a = -2\text{ м/с}^2$.

Решение. $x = 2 + 3t - t^2$; $v = \frac{dx}{dt} = 3 - 2t$; $a = \frac{dv}{dt} = -2\text{ м/с}^2$.

При $t = 3\text{ с}$ а) $x = 2 + 9 - 9 = 2\text{ м}$;

$$\text{б) } v = 3 - 6 = -3 \text{ м/с;}$$

$$\text{в) } a = -2 \text{ м/с}^2.$$

2.12. Частица движется вдоль оси x по закону $x = 3t^2 - 2t + 3$. Определите: а) среднюю скорость $2 \text{ с} < t < 3 \text{ с}$; б) мгновенную скорость при $t_1 = 2 \text{ с}$ и $t_2 = 3 \text{ с}$; в) среднее ускорение в интервале $2 \text{ с} < t < 3 \text{ с}$; г) мгновенное ускорение при $t_1 = 2 \text{ с}$ и $t_2 = 3 \text{ с}$.

Решение. При $t_1 = 2 \text{ с}$, $x_1 = 3 \cdot 2^2 - 2 \cdot 2 + 3 = 11 \text{ м}$, при $t_2 = 3 \text{ с}$, $x_2 = 24 \text{ м}$.

$$\text{а) Средняя скорость } v_{\text{cp}} = \frac{x_2 - x_1}{t_2 - t_1} = \frac{\Delta x}{\Delta t} = \frac{24 - 11}{3 - 2} = 13 \text{ м/с;}$$

б) Мгновенная скорость $v = \frac{dx}{dt} = 6t - 2$; при $t_1 = 2 \text{ с}$, $v_1 = 10 \text{ м/с}$; при $t_2 = 3 \text{ с}$, $v_2 = 16 \text{ м/с}$.

$$\text{в) Среднее ускорение } a_{\text{cp}} = \frac{\Delta v}{\Delta t} = \frac{16 - 10}{3 - 2} = 6 \text{ м/с}^2.$$

г) Мгновенное ускорение $a = \frac{dv}{dt} = 6 \text{ м/с}^2$ — постоянная величина и при $t_1 = 2 \text{ с}$, и при $t_2 = 3 \text{ с}$.

2.13. Прямолинейное движение точки описывается уравнением $x = 1 + 3t - 2t^2$ (x выражено в м, t — в с). Где находилась точка в начальный момент времени? Как меняется скорость со временем? Когда точка окажется в начале координат?

Ответ: $t_1 = 0,5 \text{ с}$, $t_2 = 1 \text{ с}$.

Решение. $x(t) = 1 + 3t - 2t^2$; $t = 0$, $x_0 = 1 \text{ м}$; $v(t) = \frac{dx}{dt} = 3 - 4t$;

$x = 0$, $1 + 3t - 2t^2 = 0$. $t_1 = 0,5 \text{ с}$, $t_2 = 1 \text{ с}$ — в эти моменты точка находится в начале координат.

2.14. Движение точки задано уравнением $x = 12t - 2t^2$ (x выражено в м, t — в с). Определите среднюю скорость и среднюю путевую скорость движения точки в интервале времени от $t_1 = 1,0 \text{ с}$ до $t_2 = 4,0 \text{ с}$.

Ответ: $v_{\text{cp}} = 2 \text{ м/с}$, $v_{\text{сп}} = 3,3 \text{ м/с}$.

Решение. $x = 12t - 2t^2$;

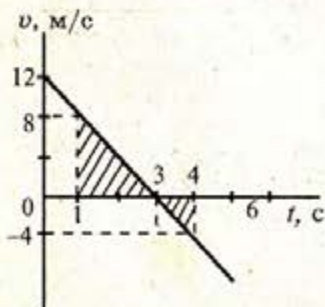


Рис. 2.14

$$v = \frac{dx}{dt} = 12 - 4t \text{ (рис. 2.14).}$$

$$t_0 = 0; v(0) = 12 \text{ м/с; } v(t') = 0; 12 - 4t' = 0; t' = 3 \text{ с;}$$

$$v(t_1) = 12 - 4 \cdot 1 = 8 \text{ м/с; } v(t_2) = 12 - 4 \cdot 4 = -4 \text{ м/с;}$$

$$\text{Средняя скорость } v_{\text{cp}} = \left(\frac{8 \cdot (3-1)}{2} - \frac{4 \cdot (4-3)}{2} \right) \frac{1}{(4-1)} = 2 \text{ м/с;}$$

$$\text{Средняя путевая скорость } v_{\text{сп}} = \frac{S}{t};$$

$$v_{\text{сп}} = \left(\frac{8 \cdot (3-1)}{2} + \frac{4 \cdot (4-3)}{2} \right) \frac{1}{(4-1)} = 3,3 \text{ м/с.}$$

2.15. Тело движется вдоль оси x по закону $x = 6 - 3t + 2t^2$. Найдите среднюю путевую скорость тела, ускорение и путь за первые три секунды движения. Постройте графики скорости, ускорения, перемещения и пути в зависимости от времени.

Решение. По определению $v = \frac{dx}{dt} = -3 + 4t$, тогда при $t_1 = 0$

$$v_1 = -3 \text{ м/с, при } t_2 = 3 \text{ с } v_2 = 9 \text{ м/с. } v = 0, \text{ когда } t = 0,75 \text{ с.}$$

Учитывая, что средняя путевая скорость $v_{\text{сп}} = \frac{S}{t}$, по графику скорости, изображенному на рис. 2.15а, найдем путь тела за 3 с (заштрихованная площадь на рисунке) $S = \frac{|3 \cdot 0,75|}{2} + \frac{|9 \cdot 2,25|}{2} = 11,25 \text{ м}$.

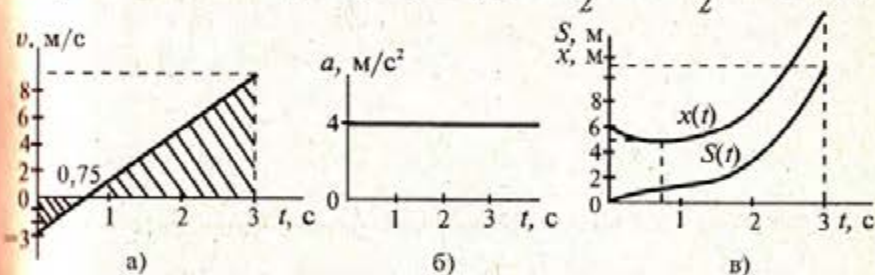


Рис. 2.15

$$\text{Средняя путевая скорость за 3 с } v_{\text{сп}} = \frac{11,25}{3} = 3,75 \text{ м/с.}$$

Ускорение тела: $a = \frac{dv}{dt} = 4 \text{ м/с}^2 = \text{const}$ (см. рис. 2.15б).

График перемещения — парабола (см. рис. 2.15в), где при $t = 0$ $x_0 = 6 \text{ м}$ — начальная координата тела, вершина параболы находится в точке $t = 0,75 \text{ с}$ ($v = 0$), $x(t = 0,75 \text{ с}) = 6 - 3 \cdot 0,75 + 2 \cdot 0,75^2 = 4,9 \text{ м}$.

В момент времени $t_2 = 3$ с, $x(t_2 = 3 \text{ с}) = 6 - 3 \cdot 3 + 2 \cdot 3^2 = 15$ м.

Следует учитывать, что путь — это всегда положительная величина, которая не может уменьшаться, поэтому, чтобы получить $S(t)$, на графике $x(t)$ следует часть параболы за время от 0 до 0,75 с перевернуть выпуклостью вверх, а оставшуюся часть параболы ($t > 0,75$ с) перенести параллельно самой себе и присоединить к графику $S(t)$.

2.16. Точка движется по закону $x = 2 - 12t + 2t^2$ (x выражено в м, t — в с). Постройте графики зависимостей координаты, пути, скорости и ускорения точки от времени.

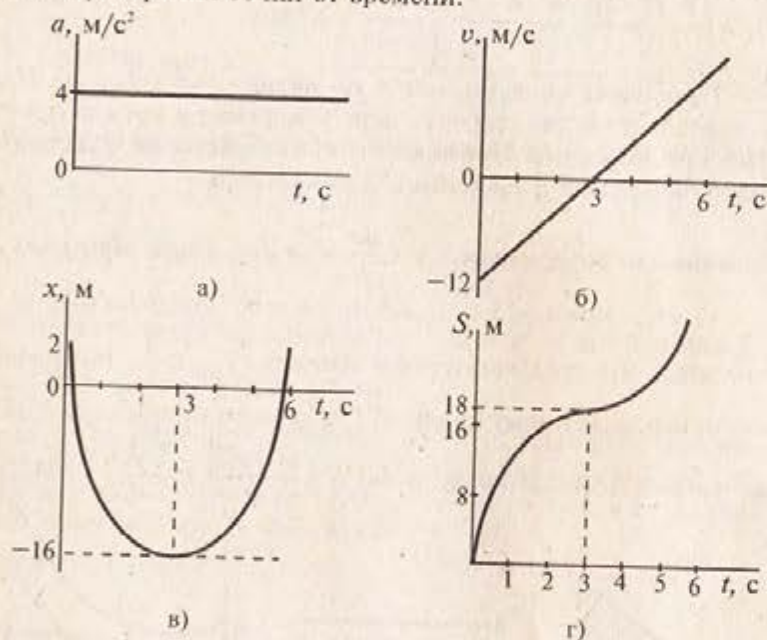


Рис. 2.16

Решение. Графики показаны на рис. 2.16. $x = 2 - 12t + 2t^2$;

$$v = \frac{dx}{dt} = -12 + 4t; \quad a = \frac{dv}{dt} = 4 \text{ м/с}^2; \quad v = -12 + 4t; \quad v(0) = -12 \text{ м/с};$$

$$v(t_1) = 0; \quad -12 + 4t_1 = 0; \quad t_1 = 3 \text{ с};$$

В точке $t_1 = 3$ с при $v = 0$ — вершина параболы (рис. 2.16в)

$$x(t_1) = 2 - 12 \cdot 3 + 2 \cdot 3^2 = -16 \text{ м}; \quad x = 0, 2t^2 - 12t + 2 = 0;$$

$$t_2 = 0, 2 \text{ с}; \quad t_3 = 5, 8 \text{ с}.$$

2.17. Траектория движения тела показана на рис. 2.17. Уравнение движения тела вдоль оси y записывается в следующем виде:

$y = \frac{a_y t^2}{2}$, где $a_y = 2,0 \text{ м/с}^2$. Угол $\alpha = 30^\circ$. Определите ускорение тела. Какую скорость имеет тело через $t = 5,0$ с после начала движения, каковы его координаты в этот момент времени?

Ответ: $a = 4 \text{ м/с}^2$, $v = 20 \text{ м/с}$, $x = 43 \text{ м}$, $y = 25 \text{ м}$.

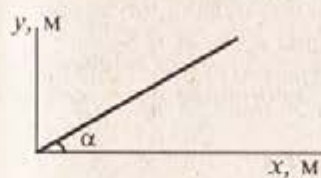


Рис. 2.17

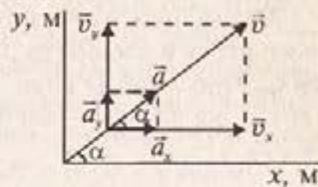


Рис. 2.18

Решение. $a_y = 2,0 \text{ м/с}^2$; $a_x = a_y \cdot \text{ctg } \alpha = 2 \cdot \text{ctg } 30^\circ = 3,46 \text{ м/с}^2$;

$$a = \sqrt{a_x^2 + a_y^2}; \quad a = \sqrt{3,46^2 + 2^2} = 4 \text{ м/с}^2 \text{ (рис. 2.18);}$$

$$v_x = a_x t; \quad v_y = a_y t; \quad v = \sqrt{v_x^2 + v_y^2}; \quad v = t \sqrt{a_x^2 + a_y^2}; \quad v = 20 \text{ м/с};$$

$$\text{или } v = at; \quad v = 4 \cdot 5 = 20 \text{ м/с}.$$

$$x = \frac{a_x t^2}{2}; \quad x = \frac{3,46 \cdot 5^2}{2} = 43 \text{ м}; \quad y = \frac{a_y t^2}{2}; \quad y = \frac{2 \cdot 5^2}{2} = 25 \text{ м}.$$

2.18. Жюль Верн предложил запустить капсулу с человеком на Луну, выстрелив ее из пушки, длина ствола которой $l = 220$ м. При этом капсула приобретает скорость $v = 10,97 \text{ км/с}$. Каково ускорение капсулы во время движения? Сравните полученную величину с ускорением свободного падения.

Ответ: $a = 2,74 \cdot 10^5 \text{ м/с}^2$.

Решение. Из формулы $l = \frac{v^2 - v_0^2}{2a}$ получаем $a = (v^2 - v_0^2)/2l$;

$v_0 = 0$, тогда $a = 2,74 \cdot 10^5 \text{ м/с}^2$, что в $2,79 \cdot 10^4$ раз больше ускорения свободного падения ($g = 9,8 \text{ м/с}^2$), что является нереальным.

2.19. Точка проходит путь 1 м, имея начальную скорость 1 мм/с и конечную — 2 мм/с. Может ли ее среднее ускорение равняться 10 км/с^2 ?

Решение. Среднее ускорение равно $a_{\text{ср}} = \frac{v - v_0}{t}$, поэтому требо-

вание задачи можно удовлетворить при $t = \frac{2 \cdot 10^{-3} - 1 \cdot 10^{-3}}{10^4} = 10^{-7} \text{ с}$,

тогда средняя скорость точки будет равна $v_{\text{cp}} = \frac{S}{t} = \frac{1}{10^{-7}} = 10^7 \text{ м/с} = 10^4 \text{ км/с}$.

Здесь учтено, что рассматриваемое движение не должно быть обязательно равноускоренным.

2.20. Автомобиль начинает движение без начальной скорости и проходит первый километр с ускорением a_1 , а второй — с ускорением a_2 . При этом на первом километре его скорость возрастает на 10 м/с, а на втором — на 5 м/с. Что больше: a_1 или a_2 ?

Ответ: $a_2 > a_1$.

Решение. $v^2 - v_0^2 = 2aS$; $a_1 = \frac{10^2 - 0}{2 \cdot 10^3} = 0,05 \text{ м/с}^2$;

$a_2 = \frac{(10+5)^2 - 10^2}{2 \cdot 10^3} = 0,0625 \text{ м/с}^2$; $a_2 > a_1$.

2.21. Автомобиль начал двигаться с ускорением $a = 1,5 \text{ м/с}^2$ и через некоторое время оказался на расстоянии $S = 12 \text{ м}$ от начальной точки. Определите скорость автомобиля в этот момент времени. Чему равна средняя скорость?

Ответ: $v = 6,0 \text{ м/с}$; $v_{\text{cp}} = 3 \text{ м/с}$.

Решение. $S = \frac{at^2}{2}$; $t = \sqrt{\frac{2S}{a}} = \sqrt{\frac{2 \cdot 12}{1,5}} = 4 \text{ с}$; $v = at = 1,5 \cdot 4 = 6 \text{ м/с}$;

$v_{\text{cp}} = \frac{S}{t} = \frac{12}{4} = 3 \text{ м/с}$.

2.22. По одному направлению из одной точки одновременно начали двигаться два тела: одно — равномерно со скоростью $v = 980 \text{ см/с}$, а другое — равноускоренно без начальной скорости с ускорением $a = 9,8 \text{ см/с}^2$. Через какое время второе тело догонит первое?

Ответ: $\tau = 200 \text{ с}$.

Решение. $S_1 = S_2$; $v \cdot \tau = \frac{a\tau^2}{2}$; $\tau = \frac{2v}{a} = \frac{2 \cdot 0,980}{0,098} = 200 \text{ с}$.

2.23. Автомобиль прошел путь $S = 60 \text{ км}$ за время $t = 52 \text{ мин}$. Сначала он шел с ускорением $+a$ в конце — с ускорением $-a$, а остальное время с максимальной скоростью $v_{\text{max}} = 72 \text{ км/ч}$. Найдите модуль ускорения, если начальная и конечная скорости равны нулю.

Ответ: $a = 0,17 \text{ м/с}^2$.

Решение. $t_1 = t_3$; $t_2 = t - 2t_1$; $S = \frac{v_{\text{max}}}{2} 2t_1 + v_{\text{max}} (t - 2t_1)$;

$$t_1 = \frac{v_{\text{max}} t - S}{v_{\text{max}}}, v_{\text{max}} = at_1; a = \frac{v_{\text{max}}}{t_1} = \frac{v_{\text{max}}^2}{v_{\text{max}} t - S}.$$

2.24. Тележка трогается с места и с ускорением 1 м/с^2 проходит расстояние $12,5 \text{ м}$; затем она движется равномерно в течение 15 с ; потом до остановки равнозамедленно проходит 20 м . Найдите скорость и путь равномерного движения, время и ускорение замедленного движения. Постройте график скорости тела.

Решение. Разобьем путь тележки на участки равноускоренного, равномерного и равнозамедленного движения. Начальная скорость на первом участке и конечная на третьем равны нулю. Конечная скорость на первом участке равняется скорости движения на втором участке и начальной скорости на третьем. Используя эти данные, получаем:

$$v_2^2 = 2a_1 l_1; v_2 = \sqrt{2a_1 l_1} = 5 \text{ м/с}. l_2 = v_2 t_2 = \sqrt{2a_1 l_1} \cdot t_2 = 75 \text{ м}.$$

$$0 - v_2^2 = 2a_3 l_3; a_3 = -v_2^2 / 2l_3 = -0,625 \text{ м/с}^2. t_3 = (0 - v_2) / a_3 = 8 \text{ с}.$$

Время ускоренного движения: $t_1 = v_2 / a_1 = \sqrt{2a_1 l_1} / a_1 = 5 \text{ с}$.

График скорости тела представлен на рисунке 2.19.

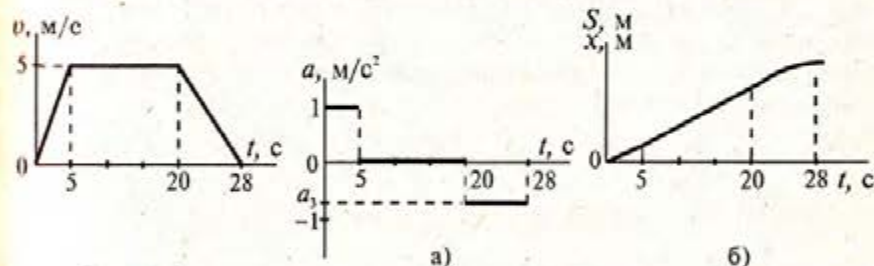


Рис. 2.19

Рис. 2.20

Ускорение тележки на первом участке $a_1 = 1 \text{ м/с}^2$, на втором $a_2 = 0$, на третьем $a_3 = -5/8 = -0,625 \text{ м/с}^2$.

Качественные графики перемещения и пути приведены на рисунке 2.20а, 2.20б.

На участке $t = 0-5$ с график перемещения — парабола, на участке $t = 5-20$ с зависимость $x(t)$ оказывается прямопропорциональной, в интервале $t = 20-28$ с парабола — движение равнозамедленное.

В этой задаче графики перемещения и пути совпадают.

2.25. Расстояние между двумя станциями $S = 3 \text{ км}$ поезд метро проходит со средней скоростью $v_{\text{cp}} = 54 \text{ км/ч}$. При этом на разгон он затрачивает время $t_1 = 20 \text{ с}$, затем идет равномерно некоторое время t_2 и на замедление до полной остановки тратит $t_3 = 10 \text{ с}$.

Постройте график скорости движения поезда и определите наибольшую скорость поезда.

Ответ: $v_{\max} = 16,2 \text{ м/с}$ (см. рис. 2.21).

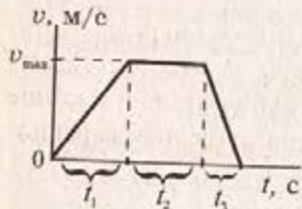


Рис. 2.21

Решение. $t = t_1 + t_2 + t_3 = \frac{S}{v_{\text{cp}}}$;

На участке t_1 $v_{\text{cp}} = \frac{v_{\max}}{2}$;

На участке t_3 $v_{\text{cp}} = \frac{v_{\max}}{2}$;

$$\frac{v_{\max}}{2} t_1 + v_{\max} \left(\frac{S}{v_{\text{cp}}} - (t_1 + t_3) \right) + \frac{v_{\max}}{2} t_3 = S;$$

$$v_{\max} = \frac{2Sv_{\text{cp}}}{2S - v_{\text{cp}}(t_1 + t_3)} = 16,2 \text{ м/с.}$$